


Освещенность (закон обратных квадратов)



Физика

Свет и оптика

Распространение света



Уровень сложности

легко



Размер группы

1



Время подготовки

10 Минут



Время выполнения

10 Минут



Информация для учителей

Описание



Дальность действия лампы накаливания

Как далеко на самом деле распространяется свет от лампы накаливания? Фонарика? Или прожектора?

В этом эксперименте речь пойдет о снижении освещенности при увеличении расстояния от источника света.

Дополнительная информация для учителей (1/3)

предваритель знания

Учащиеся должны быть ознакомлены с законом прямолинейного распространения света и уметь пользоваться осветителем. В связи с измерением длин сторон освещаемых участков ученики должны использовать свои знания о тени и полутени. Поскольку источник света не точечный, то края тени нечеткие.



Принцип

Ученики определяют зависимость между освещенностью и расстоянием от источника света до освещаемой области.



Дополнительная информация для учителей (2/3)

Цель



Этот эксперимент подходит как в качестве вводного эксперимента, так и в качестве эксперимента для проверки справедливости закона обратных квадратов.

Задачи



Какова взаимосвязь между освещенностью и расстоянием от источника света до освещаемой области? Изменяя расстояние между источником света и освещаемой областью, исследуйте, как освещенность E зависит от расстояния r .

Дополнительная информация для учителей (3/3)

Инструкции по порядку и выполнению работы

Учитель должен убедиться, что миллиметровая бумага на экране не волнистая, а туго натянута, и что экран нельзя смещать или наклонять при разметке краев освещенных участков, чтобы ошибки измерения не становились слишком большими.

Инструкции по технике

PHYWE
excellence in science



- Галогенные лампы нагреваются после длительного использования
- Избегайте смотреть непосредственно на источник света

PHYWE
excellence in science

Информация для студентов

Мотивация

PHYWE
excellence in science

На улице в ночное время

Как далеко Вы можете видеть ночью на дороге, когда едете на велосипеде?

С какого расстояния окружающие могут увидеть Вас в темноте, когда на велосипеде включен фонарик?

Ответы на эти вопросы можно найти при исследовании взаимосвязи между освещенностью и расстоянием от источника света до освещаемой области.

Задачи



Экспериментальная установка

Какая связь между освещенностью и расстоянием от источника света до освещаемой поверхности?

Изменяя расстояние между источником света и освещаемой поверхностью, исследуйте, как освещенность E соотносится с расстоянием r .

Материал

Позиция	Материал	Пункт No.	Количество
1	Оптическая скамья для лабораторных экспериментов, L = 600 мм	08376-00	1
2	Осветитель, галоген, 12В/20 Вт	09801-00	1
3	Нижняя часть светового ящика, со стержнем	09802-20	1
4	Диафрагма с квадратом	09816-03	1
5	Скользящая опора для оптической скамьи	09822-00	1
6	Экран, белый, 150x150 мм	09826-00	1
7	PHYWE Источник питания пост. ток: 0...12 В, 2 А / перемен. ток: 6 В, 12 В, 5 А	13506-93	1

Подготовка (1/5)

PHYWE
excellence in science

Сборка оптической скамьи

Постройте оптическую скамью из двух штативных стержней и регулируемого основания штатива и поместите линейку на один из штативных стержней.

Подготовка (2/5)

PHYWE
excellence in science

Использование осветителя с нижней частью основания и стержнем

- Поместите нижнюю часть основания со стержнем под осветитель.

Подготовка (3/5)

PHYWE
excellence in science




Расположение осветителя на оптической скамье

- Зафиксируйте осветитель в левой части основания штатива, при этом сторона объектива (линзы) должна быть обращена в сторону от оптической скамьи.
- Вставьте непрозрачную диафрагму перед линзой, а диафрагму с квадратным отверстием - в прорезь на другом конце осветителя.

Подготовка (4/5)

PHYWE
excellence in science




Прикрепление миллиметровой бумаги

- Поместите лист миллиметровой бумаги на экран, загните выступающие части и плотно закрепите бумагу на экране 3 скрепками.

Подготовка (5/5)

PHYWE
excellence in science




Крепление экрана с миллиметровой бумагой

- Поместите экран с миллиметровой бумагой на оптическую скамью с помощью скользящей опоры рядом с осветителем.

Выполнение работы (1/4)

PHYWE
excellence in science




Подключение осветителя

- Подключите осветитель к источнику питания (12 В~) и включите его.

Выполнение работы (2/4)

PHYWE
excellence in science



Размещение экрана

Медленно двигайте экран вправо, наблюдая за освещаемой областью.

Осуществление (3/4)


PHYWE
excellence in science



Разметка освещаемой области

- Установите экран на отметке 6 см от источника света (лампы накаливания в осветителе).
- Отметьте карандашом (пунктиром) края освещаемой области.

Выполнение работы (4/4)

PHYWE
excellence in science

Разметка освещаемой области

- Установите экран на расстоянии 12 см, 18 см и 24 см.
- Отметьте соответствующие края освещаемой области для каждого случая.
- Выключите источник питания.
- Снимите миллиметровую бумагу с экрана и нарисуйте освещаемые участки, соединив отметки на их краях.
- Измерьте длины сторон a и b освещаемых областей и запишите их в таблицу Протокола.

PHYWE
excellence in science

Протокол

Задача 1

Изменение освещаемой области по мере увеличения расстояния между экраном и источником света: введите измеренные значения в таблицу. Для освещаемых областей преломляйте области $A = a \cdot b$ и квадраты их соответствующего расстояния r от источника света.

r , см	a , см	b , см	$a \cdot b$, см ²	r^2 , см ²	A/r^2
3 (диафрагма)					
6					
12					
18					
24					

Задача 2

Сравните значения $A = a \cdot b$ и r^2 . Какова связь между A и r^2 ?

A и r^2 (предположительно) друг другу.

Проверить

Задача 3

PHYWE
excellence in science

Проверьте свое предположение: вычислите частное A / r^2 (с точностью до 2 знаков после запятой) и введите результаты в последний столбец таблицы 1 в разделе "Наблюдения и результаты измерений". Запишите соотношение между A и r^2 в математической форме.

 $A / r^2 =$

.

$A \sim r^2$, т.е. освещаемой области и ее расстояния от источника света пропорциональны друг другу.

квадрат

площадь

 Проверить

Задача 4

PHYWE
excellence in science

Свет, излучаемый источником света, распространяется, например, на расстоянии в два раза больше r и в четыре раза больше площади, то есть освещенность E (или яркость) уменьшается в 4 раза.

Какая связь между E и r ?

Задача 5

Освещенность E также пропорциональна интенсивности света / источника света.

Какая связь между E , I и r ?

Слайд

Оценка/Всего

Слайд 22: Отношения A и g

0/1

Слайд 23: Площадь и расстояние

0/2

Общая сумма

 Решения Повторить Экспортируемый текст